



SALA DE RECURSOS MULTIFUNCIONAL

ESCOLA MUNICIPAL PROFESSOR SEBASTIÃO FELTRIN

PROFESSORAS: MARCIA NOVAES

TURMA: A



COMPONENTES CURRICULARES: LÍNGUA PORTUGUESA E MATEMÁTICA

DATA DA REALIZAÇÃO: DE 23 A 29 DE OUTUBRO

ALUNO (A): _____ TURMA: _____

Senhores Pais e Responsáveis

Vocês estão recebendo as **ATIVIDADES COMPLEMENTARES DE ESTUDO PARA O PERÍODO DE ISOLAMENTO – COVID 19, referente a semana de 23 a 29 de outubro de 2020**. Contamos com sua participação para que todas essas atividades sejam realizadas pelo seu filho.

No roteiro a seguir estão as atividades e todas as orientações para sua execução. Tudo está descrito de forma simples. Qualquer dúvida estarei a disposição no Whats App.

Abraços,

Professora MÁRCIA

VÍDEO OU ÁUDIO DA EXPLICAÇÃO DA PROF^a.	➤ Assista ao Vídeo/ áudio explicativo da professora.
O QUE VAI ESTUDAR?	Língua Portuguesa e Matemática Interpretação de gráfico, percepção visual, atenção, números ordinais, organização espacial Associação de imagem e significado Leitura e escrita, ortografia palavras escritas com L e U
PARA QUÊ VAMOS ESTUDAR ESSES CONTEÚDOS?	Para lembrar os numerais ordinais e organizá-los de acordo com sua ordem Para compreender a retirar as informações de gráficos e associá-los a vida cotidiana Para memorizar e fazer uso adequado do L e U nas palavras
COMO VAMOS ESTUDAR ESSES CONTEÚDOS	Organizando uma rotina para a realização das atividades em ambiente bem iluminado e silencioso. Realizando com atenção todas as atividades do roteiro
COMO VAMOS REGISTRAR O QUE APRENDEMOS?	Preenchendo o roteiro conforme as instruções de cada atividade. Entregando os roteiros na escola para correção Não deixar atividades sem fazer, pergunte a professora quando tiver dúvida.


LÍNGUA PORTUGUESA E MATEMÁTICA

1) A Escola Sebastião Feltrin participou de várias competições, veja como as crianças ficaram classificadas.

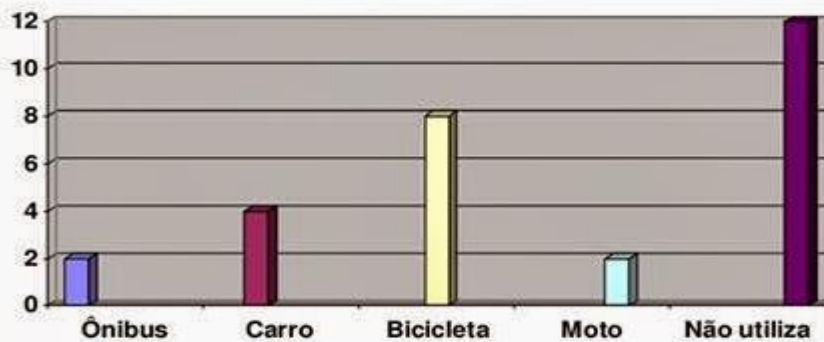
- Veja como ficou a classificação da escola na corrida por ordem alfabética:

Antônio	Sexto lugar
Bruno	Segundo lugar
Daniel	Quarto lugar
Gabriel	Primeiro lugar
Paulo	Terceiro lugar
Weverton	Quinto lugar

a) Escreva o nome de cada criança corretamente:



Observe o gráfico e descubra quais os meios de transportes mais utilizados pelos alunos da Escola Sebastião Feltrin.



A - O meio de transporte mais usado pelos alunos da sala 14 é:

- () Moto
- () Bicicleta
- () Carro
- () Ônibus

Quais os meios de transporte menos utilizado? _____

Descreva qual meio de transporte você utiliza para ir a escola.

No trajeto de casa para a escola, observamos diversas placas de sinalização, encaixe as palavras referentes a cada placa.

PROIBIDO ESTACIONAR	PARADA OBRIGATÓRIA	CRIANÇAS
VAGA PARA DEFICIENTE	ÁREA ESCOLAR	





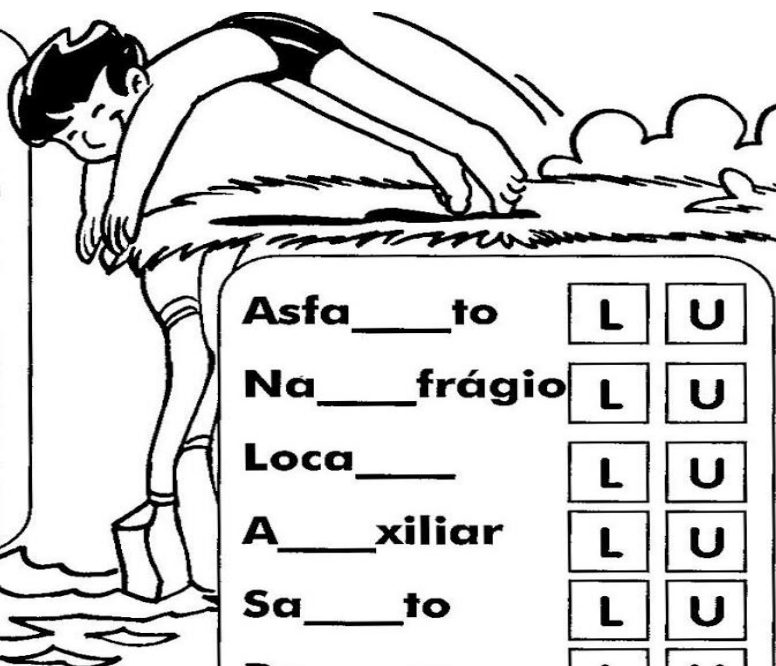






Marque um x na letra que preenche corretamente as palavras e depois complete-as.

Futebo__	L	U
Norma__	L	U
A__toria	L	U
Fuzi__	L	U
Ro__pa	L	U
A__meirão	L	U
Bacalha__	L	U



Asfa__to	L	U
Na__frágio	L	U
Loca__	L	U
A__xiliar	L	U
Sa__to	L	U
Pu__so	L	U
Co__cha	L	U
Co__ro	L	U
A__face	L	U

Sa__dade	L	U
Bo__so	L	U
A__faiate	L	U
A__rora	L	U
Cani__	L	U
A__tógrafo	L	U

